




MIÉRCOLES 27 DE MAYO DE 2020

¿QUÉ TAL EL TRABALENGUAS? SEGURO QUE YA LO TIENES DOMINADO, ¿A QUÉ SÍ?

HOY VAMOS A IR AL RINCÓN DE LA BIBLIOTECA A HACER MATEMÁTICAS QUE NO NOS HEMOS VUELTO LOCAS.  TRANQUILOS

OS TRAEMOS UN CUENTO MUY BONITO QUE YA CONOCÉIS “**POR CUATRO ESQUINITAS DE NADA**” CUANDO HAGAS EL DIBUJO RECUERDA BIEN QUE CUADRADITO ERA CUADRADO, ES DECIR TIENE QUE TENER 4 LADOS IGUALES Y CUATRO ESQUINITAS Y QUE LOS REDONDITOS NO TIENEN LADOS NI ESQUINAS. ¡VENGA ESFUÉRZATE QUE SEGURO QUE TE VA A SALIR! *PINCHA EN LA IMAGEN PARA ESCUCHAR EL CUENTO*





Y AHORA VAMOS A HACER MATEMÁTICAS, EN LA IMAGEN DE LA FICHA LOS REDONDITOS QUIEREN HACER UN BAILE CON LOS CUADRADITOS, PERO SOLO HAY UNO... CUENTA CUANTOS CÍRCULOS HAY Y DIBUJA TANTOS CUADRADOS COMO CÍRCULOS PARA QUE CADA UNO TENGA SU PROPIA PAREJA ¿CUÁNTOS HAS DIBUJADO?

POR CUATRO ESQUINITAS DE NADA

ARTISTA:

HACEMOS PAREJAS



¿CUÁNTOS
CÍRCULOS HAY?



¿CUÁNTOS CUADRADOS
TIENES QUE DIBUJAR
PARA QUE HAYA EL
MISMO NÚMERO QUE
CÍRCULOS?

Y AHORA SI QUIERES JUGAR UN RATO TE DEJO:




UN JUEGO QUE HA PREPARADO LA PROFE LUCÍA PARA VOSOTROS. PINCHA EN LA IMAGEN Y DESCARGALO PARA JUGAR.

Y UNA CANCIÓN

QUE SEGURO YA TE SABES.

PINCHA EN LA FOTO



NOS VEMOS MAÑANA



Imagen creada en GeneradorMemes.com